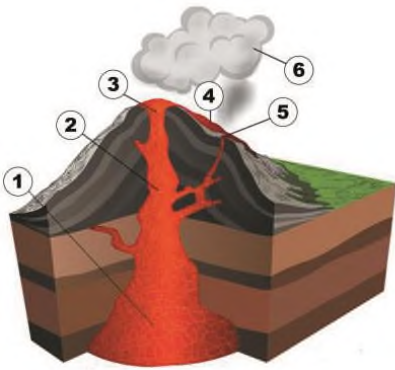
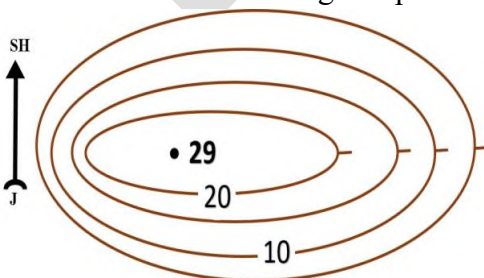


**1-qism: Har bir topshiriq 0,9 balldan baholanadi**

1. Qaysi daryo Chotqol va Piskom daryolarining Chorvoq botig'ida qo'shilishidan vujudga keladi?  
A) Zarafshon      B) Chirchiq      C) Piskom      D) Sirdaryo
2. Cho'l mintaqasi O'zbekiston hududining necha foizini tashkil etadi?  
A) 80%      B) 50%      C) 30%      D) 70%
3. Qaysi so'z yunonchadan tarjima qilganda "ko'tarilaman" degan ma'noni bildiradi?  
A) relyef      B) landshaft      C) vulqon      D) astenosfera
4. Ekologik muammolar ko'lami jihatidan nechta pog'onaga bo'linadi?  
A) 6      B) 3      C) 5      D) 2
5. Qaysi iqtisodiy rayondagi temiryo'llar hudud bo'ylab uchburchak shaklida qurilgan?  
A) Mirzacho'l      B) Quyi Amudaryo      C) Toshkent      D) Farg'ona
6. Yer po'stining kontinental tipi Pomir va Hindikushda necha km qalinlikka teng?  
A) 60-70 km      B) 70-80 km      C) 50-60 km      D) 35-40 km
7. Quyidagi rasmda 3 raqami bilan vulqonning qaysi elementi ko'rsatilgan?



- A) lava      B) vulqon kanali      C) krater      D) vulqon o'chog'i
8. Shamol yo'nalishini qaysi asbob yordamida aniqlash mumkin?  
A) termometr      B) fluger      C) anemometr      D) barometr
9. Ushbu rasmda tasvirlangan tepalikning qaysi yonbag'ri qiya?



- A) Sharqiy      B) G'arbiy      C) Shimoliy      D) Janubiy



**10. Sho'rko'l suv ombori qaysi viloyatlar orasida joylashgan?**

- A) Qashqadaryo va Buxoro                      B) Buxoro va Navoiy  
C) Surxondaryo va Qashqadaryo              D) Navoiy va Qashqadaryo

**2-qism: Har bir topshiriq 1,5 balldan baholanadi**

**11. Vujudga kelishiga ko'ra quruqlik bilan bog'liq yotqiziqalar nima deb ataladi?**

- A) Akkumulyativ yotqiziqalar                      B) Jigarrang okean loyqasi  
C) Terrigen yotqiziqalar                          D) Qizil tusli okean gili

**12. Toshkent viloyatining qaysi tumanlari asosan sabzavot va meva yetishtirishga ixtisoslangan?**

- A) Yangiyo'l, Qibray, Bo'stonliq, Parkent              B) Parkent, G'azalkent, Angren, Nurobod  
C) Bekobod, Do'stobod, Chinoz, Chirchiq              D) Piskent, Oqqo'rg'on, Bo'ka, Olmaliq

**13. Okean suvining sho'rliigi nima bilan uzviy bog'liq?**

- A) suvning harorati bilan                          B) suvo'tlar va mikroorganizmlar bilan  
C) tarkibidagi moddalari bilan                      D) chuqurligi va maydoni bilan

**14. Troposfera havosining harorati, namliigi, shamollari va boshqa xususiyatlariga ko'ra bir-biridan farq qiladigan katta qismlari nima deb ataladi?**

- A) kontinental havo                      B) dengiz havosi                      C) havo massalari                      D) havo harakati

**15. Pachkamar suv ombori qaysi daryoning oqimini tartibga solish maqsadida qurilgan?**

- A) Qashqadaryo                      B) G'uzordaryo                      C) Oqsuvdaryo                      D) Tanxozdaryo

**16. X asrning oxirida Shimoliy Amerika materigining shimoli-sharqiy qismini va Grenlandiya orolini kim o'rgandi?**

- A) A. Makkenzi                      B) Jon Kabot                      C) G. Gudzon                      D) Erik Rauda

**17. To'rg'ay supasimon o'lkasining janubiy qismi, Qozog'iston past tog'larining juda katta janubiy qismida qanday tabiat zonasi tarkib topgan?**

- A) Dasht                      B) Cho'l                      C) Chalacho'l                      D) Adir

**18. Mamlakatimizdagi birinchi paxta tozalash zavodi qayerda bunyod etilgan?**

- A) Samarqand                      B) Toshkent                      C) Namangan                      D) Bekobod

**19. Guri suv ombori qaysi daryoda barpo etilgan?**

- A) Karuna                      B) Volga                      C) Niger                      D) Missisipi

**20. Qoradaryo qaysi daryolarning qo'shilishidan hosil bo'ladi?**

- A) Oqsuv va Tanxoz                      B) Aravansoy va Oqbura                      C) Yassi va Ko'gart                      D) Tor va Qora G'ulja

**3-qism: Har bir topshiriq 2,6 balldan baholanadi**



21. 65 mln. yil avval Gondvanadan qaysi materiklar ajralib chiqqan?

1. Afrika; 2. Shimoliy Amerika; 3. Avstraliya; 4. Antarktida; 5. Yevrosiyo; 6. Janubiy Amerika  
A) 2, 4, 5, 6      B) 1, 3, 4, 6      C) 2, 3, 4, 6      D) 1, 2, 5, 6

22. Qanday andozalarda tuzilgan xaritalarda meridianlar bilan parallellar bir-birini 90° li burchak ostida kesishadigan to'g'ri chiziqlardan iborat to'r hosil qiladi?

- A) konussimon      B) silindrsimon      C) azimutli      D) teng maydonli

23. Nosir Xisravning sayohat yo'li xarit-sxemasida O'rta dengiz qanday nom bilan ko'rsatilgan?

- A) Rum dengizi      B) Abiskun dengizi      C) Fors ko'li      D) Qulzum dengizi

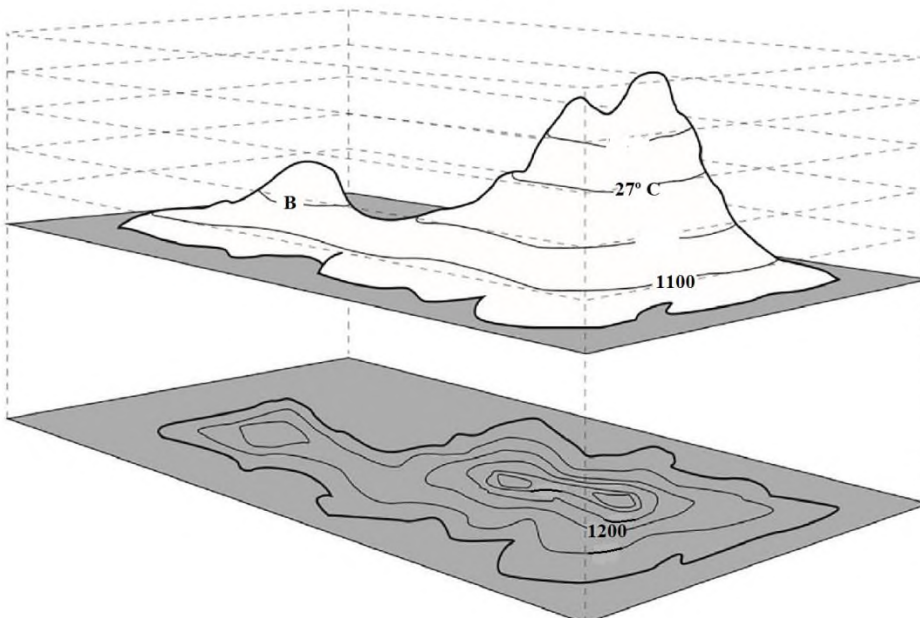
24. Mirzacho'lning markaziy qismida qanday botiqlar joylashgan?

- A) Qizilqum, Yettisoy, Boyovut  
B) Amir Temur, Sangzor, Mirzaobod  
C) Yettisoy, Sardoba, Qorasuv, Yog'ochota, Sho'ro'zak  
D) Sardoba, Yerjar, Sangzor

25. Atlantika, Tinch, Hind, Shimoliy Muz okeaniga tegishli bo'lgan dengizlar (mos ravishda) qaysi javobda to'g'ri berilgan?

- A) Krit, Ueddell, Timor, Deyvis      B) Liguriy, Koro, Dyurvill, Sharqiy Sibir  
C) Yava, Fidji, Kara, Hamdo'stlik      D) Irlandiya, Skotia, Flores, Oq

26. Quyida ko'rsatilgan B nuqtadagi havo haroratini toping?



- A) 27,6°C      B) 27°C      C) 26°C      D) 26,4°C




27. Rasmda Toshkent viloyati bilan chegaradosh bo'lgan qaysi davlatlarning hududi A va B harflari bilan ko'rsatilgan?



- A) Qozog'iston va Qirg'iziston  
B) Tojikiston va Qirg'iziston  
C) Turkmaniston va Afg'oniston  
D) Tojikiston va Qozog'iston

28. Rasmda ko'rsatilgan shamol turini aniqlang.

Yozda



Qishda



- A) Briz  
B) Musson  
C) Passat  
D) Fyon

29. Janubiy o'rmon mintaqasida o'rmon resurslariga boy mamlakatlarni belgilang.

- A) Kolumbiya, Myanma  
B) Braziliya, Madagaskar  
C) Tailand, Venesuela  
D) Argentina, Indoneziya

30. Quyidagi shaharlardan qaysilari qazilma boyliklar va suv quvvati boyliklari mavjud hududlarda barpo etilgan? 1) Yangiyer; 2) Navoiy; 3) Angren; 4) Guliston; 5) Uchquduq; 6) Shirin.

- A) 2, 3, 4, 6  
B) 1, 3, 5, 6  
C) 2, 3, 5, 6  
D) 1, 2, 4, 6

1-часть. Каждое задание оценивается 0,9 баллом

1. Какая река образуется от слияния рек Чаткал и Пскем в котловине Чарвак?

- A) Зарафшан      B) Чирчик      C) Пскем      D) Сирдарья

2. Какой процент территории Узбекистана занимает пустыня?

- A) 80%      B) 50%      C) 30%      D) 70%

3. Какое слово по-гречески означает «восходить»?

- A) рельеф      B) ландшафт      C) вулкан      D) астеносфера

4. Сколько существует уровней экологических проблем с точки зрения масштаба?

- A) 6      B) 3      C) 5      D) 2

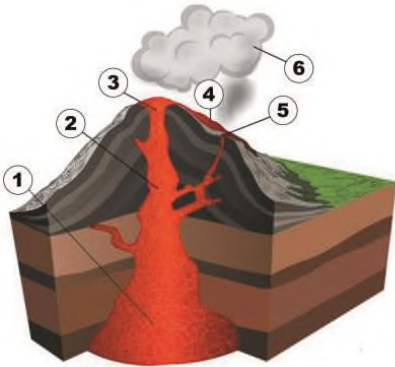
5. В какой экономической районе находятся железные дороги треугольной формы?

- A) Мирзачул      B) Нижняя Амударья      C) Ташкент      D) Фергана

6. Какова толщина континентальной коры на Памире и Гиндукуше?

- A) 60-70 км      B) 70-80 км      C) 50-60 км      D) 35-40 км

7. Какой элемент вулкана отмечен цифрой 3 на рисунке ниже?

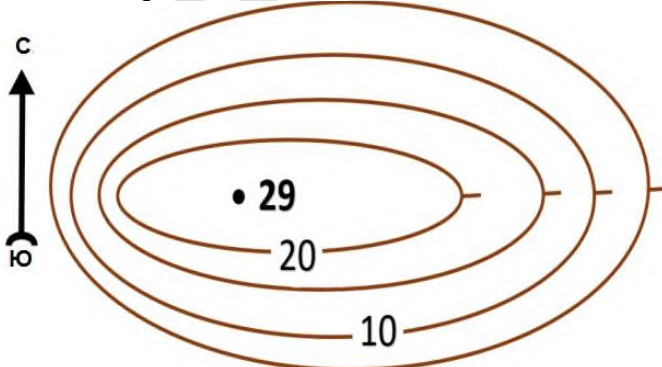


- A) лава      B) канал вулкана      C) кратер      D) извержение вулкана

8. Какой инструмент используется для определения направления ветра?

- A) термометр      B) флюгер      C) анемометр      D) барометр

9. Какая сторона холма на этом снимке пологая?



- A) восточная  
B) западная  
C) северная  
D) южная





10. Среди каких вилоятов находится Шуркульское водохранилище?

- A) Кашкадарья и Бухара  
B) Бухара и Навои  
C) Сурхандарья и Кашкадарья  
D) Навои и Кашкадарья

**2-часть. Каждое задание оценивается 1,5 баллом**

11. Как называются земные отложения, исходя из происхождения?

- A) аккумулятивные отложения  
B) коричневая океаническая грязь  
C) терригенные отложения  
D) красная океаническая глина

12. Какие районы Ташкентской области специализируются в основном на выращивании овощей и фруктов?

- A) Янгийул, Кибрай, Бостанлык, Паркент  
B) Паркент, Газалкент, Ангрен, Нурабад  
C) Бекабад, Дустабад, Чиназ, Чирчик  
D) Пскент, Аккурган, Бука, Алмалык

13. С чем неразрывно связана соленость океанической воды?

- A) с температурой воды  
B) с водорослями и микроорганизмами  
C) с частицами в составе  
D) с глубиной и площадью

14. Как называются большие участки тропосферного, которые отличаются друг от друга по температуре, влажности, ветрам и другим свойствам?

- A) континентальный воздух  
B) морской воздух  
C) воздушные массы  
D) воздушные движения

15. Пачкамарское водохранилище было построено для регулирования стока какой реки?

- A) Кашкадарье  
B) Гузардарье  
C) Аксударье  
D) Танхоздарье

16. Кто исследовал северо-восточную часть Североамериканского континента и остров Гренландия в конце X века?

- A) А. Маккензи  
B) Джон Кабот  
C) Г. Гудзон  
D) Эрик Рауда

17. Что представляет собой природная зона в южной части Тургайского плато и большая по площади южная часть Казахского мелкосопочника?

- A) Степь  
B) Пустыня  
C) Полупустыня  
D) Адыр

18. Где был построен первый в нашей стране хлопкоочистительный завод?

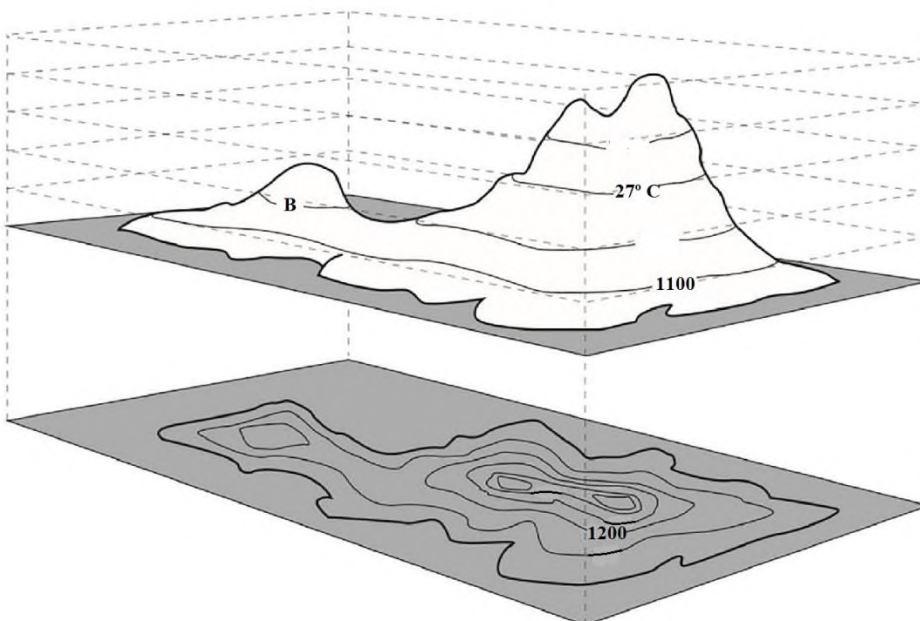
- A) Самарканд      B) Ташкент      C) Наманган      D) Бекабад



19. На какой реке построено Гурийское водохранилище?  
А) Каруна                      В) Волга                      С) Нигер                      D) Миссисипи
20. От слияния каких рек образуется Карадарье?  
А) Аксу и Танхаздаря                      В) Аравансай и Акбура  
С) Яссы и Кугарт                      D) Тор и Карагульджа

**3-часть. Каждое задание оценивается 2,6 баллом**

21. Какие материки отделились от Гондваны 65 млн лет назад?  
1. Африка; 2. Северная Америка; 3. Австралия; 4. Антарктида; 5. Евразия; 6. Южная Америка  
А) 2, 4, 5, 6                      В) 1, 3, 4, 6                      С) 2, 3, 4, 6                      D) 1, 2, 5, 6
22. На картах, составленных по каким шаблонам, параллели с меридианами образуют сетку, состоящую из прямых, пересекающих друг друга под углом 90°?  
А) конусообразный                      В) цилиндрический  
С) Азимутный                      D) в равной площади
23. Как называется Средиземное море на карте путешествий Насира Хусрова?  
А) Римское море                      В) Абискунское море                      С) Персидское озеро                      D) Кульзумское море
24. Какие неглубокие понижения находятся в центральной части Мирзачуля?  
А) Кизилкум, Джетысай, Баявут                      В) Амир Темур, Сангзар, Мирзаабат  
С) Джетысай, Сардоба, Шурузяк                      D) Сардоба, Ерджар, Сангзар
25. Что из следующего верно относительно морей Атлантического, Тихого, Индийского и Северного Ледовитого океана (соответственно)?  
А) Крит, Уэдделла, Тимор, Дейвиса                      В) Лигурийский, Коро, Дюрвиля, Восточно-Сибирское море  
С) Ява, Фиджи, Кара, Содружество                      D) Ирландия, Шотландия, Флорес, Белое море
26. Найти температуру воздуха в точке В, показанную ниже?



- А) 27,6°C  
В) 27°C



- C) 26°C
- D) 26,4°C

27. Территории каких государств, граничащих с Ташкентской областью, обозначены на рисунке буквами А и В?



- A) Казахстан и Кыргызстан
- B) Таджикистан и Кыргызстан
- C) Туркменистан и Афганистан
- D) Таджикистан и Казахстан

28. Определите тип ветра, показанный на рисунке.

Летом



Зимой



- A) Бриз
- B) Муссон
- C) Пассат
- D) Фён

29. Определите страны в пределах Южного лесного пояса, богатых лесными ресурсами.

- A) Колумбия, Мьянма
- B) Бразилия, Мадагаскар
- C) Таиланд, Венесуэла
- D) Аргентина, Индонезия

30. Какие из перечисленных городов были построены на территориях, где имеются запасы полезных ископаемых и водных ресурсов? 1) Янгиер; 2) Навои; 3) Ангрен; 4) Гулистан; 5) Учкудук; 6) Ширин.

- A) 2, 3, 4, 6
- B) 1, 3, 5, 6
- C) 2, 3, 5, 6
- D) 1, 2, 4, 6







DEPARTMENT



**1-qism: Har bir topshiriq 0,9 balldan baholanadi**

1. Shamolning tezligi qaysi asbob yordamida o'lchanadi?  
A) Fluger    B) Anemometr    C) Barometr    D) Termometr
2. Kelib chiqishiga ko'ra muz hosil qilgan ko'lni belgilang.  
A) Katta Ayiq    B) Nyasa    C) Baykal    D) Tanganika
3. Litosfera okean tubida va quruqliklarda necha kilometr qalinlikka ega?  
A) 60-70 va 100-150    B) 20-50 va 200-300    C) 35-40 va 70-80    D) 50-60 va 100-200
4. Aholining tug'ilganlar soniga nisbatan o'lganlar sonining ko'pligi hisobiga ko'payishi nima deb ataladi?  
A) mexanik ko'payish    B) depopulyatsiya    C) tabiiy ko'payish    D) reurbanizatsiya
5. Janubiy Amerika materigining 30° va 40° janubiy kengliklari oralig'idagi hududlarda qaysi iqlim mintaqasi tarkib topgan?  
A) tropik    B) subekvatorial    C) subtropik    D) ekvatorial
6. Nima Atlantika okeanining shimoliy qismida, Florida yarimoroli, Folklend orollari yonida katta maydonlarni egallaydi?  
A) suv osti tog' tizmasi    B) dengiz sayozligi    C) port shaharlar    D) okean botiqlari
7. Xo'jakent GESi qaysi daryoda qurilgan?  
A) Chirchiq    B) Sirdaryo    C) Qoradaryo    D) Amudaryo
8. Tabiiy gazdan azotli o'g'it va kimyoviy tola ishlab chiqaradigan zavodlar qaysi shaharlada bunyod etilgan?  
A) Andijon va Nukus    B) Buxoro va Samarqand  
C) Yangiyo'l va Marg'ilon    D) Farg'ona va Navoiy
9. Kavkaz tog'larining shimoliy yonbag'ri uchun qanday iqlim xos?  
A) subekvatorial    B) subtropik    C) tropik    D) mo'tadil
10. Magmatik va metamorfik jinslar Afrikaning qaysi hududlarida uchraydi?  
A) daryo havzalarida va botiqlarda  
B) tog'lar va pasttekisliklarda  
C) tog'lar va platolarda  
D) cho'kmalar va pasttekisliklarda

**2-qism: Har bir topshiriq 1,5 balldan baholanadi**

11. O'zbekistonning tog'li qismida tog' oralig'i botiqlarining paydo bo'lishi nima bilan bog'liq?  
A) tog' tizmalarining ko'tarilishi  
B) vulqonlarning otilishi  
C) doimiy shamollarning esishi  
D) relyefning notekisligi
12. Ushbu xarita-sxemadagi yo'nalish bo'yicha sayyohlar A nuqtadan B nuqtaga borishlari uchun qaysi tabiat zonalaridan o'tishlari kerak?





- A) Qattiq bargli doimiy yashil oʻrmonlar zonasidan chalachoʻllar zonasiga  
B) Savannalardan nam ekvatorial oʻrmonlar zonasiga  
C) Nam ekvatorial oʻrmonlar zonasidan savannalar zonasiga  
D) Savannalardan chalachoʻl va choʻl zonasiga

13. Kongo daryosi havzasining bir qismi va Gvineya qoʻltigʻi sohillarida yil davomida qanday havo massalari hukmronlik qiladi?

- A) ekvatorial      B) kontinental      C) tropik      D) moʻtadil

14. Janubiy Amerikaning qaysi davlatlari Atlantika va Tinch okean havzalari bilan tutash emas?

- A) Surinam, Peru      B) Argentina, Gayana      C) Boliviya, Paragvay      D) Venesuela, Kolumbiya

15. Kermadek choʻkmasi Yava choʻkmasidan necha metrga chuqur?

- A) 2318 m      B) 2031 m      C) 1706 m      D) 1840 m

16. Quyidagilardan qaysi biri ozon qatlamini yemiradigan “freon” gazlarining tarkibiga kirmaydi?

- A) xlor      B) ftor      C) vodorod      D) uglerod

17. Mirzachoʻlning tekislik qismi qaysi davrda dengiz suvi ostida boʻlgan?

- A) toshkoʻmir      B) yura      C) devon      D) silur

18. Quyidagi maʼlumotlar asosida havoning sutkalik oʻrtacha haroratini aniqlang: soat 1:00 da +8°C; 4:00 da +4°C; 7:00 da +7°C; 10:00 da +15°C; 13:00 da +19°C; 16:00 da +21°C; 19:00 da +13°C; 22:00 da +9°C.

- A) +15°C      B) +19°C      C) +12°C      D) +13°C

19. Deltalardagi qurigan kichikroq koʻllarning botiqlar landshaftning qaysi birligiga mos keladi?

- A) joy      B) urochishe      C) fatsiya      D) provinsiya

20. Togʻ va tepalik yonbagʻirlarining ufq tomonlariga, quyosh nurlari tushadigan tomonga nisbatan joylashuvi nima deb ataladi?

- A) geografik oʻrin  
B) balandlik mintaqalanishi  
C) yonbagʻir ekspozitsiyasi  
D) sektorlik

**3-qism: Har bir topshiriq 2,6 balldan baholanadi**



21. Janubiy Amerika materigining tekislik qismida qanday tabiat zonalari shakllangan? 1. sernam ekvatorial o'rmonlar; 2. preriya; 3. subekvatorial o'rmonlar; 4. savannalar; 5. ignabargli o'rmonlar; 6. dasht; 7. chalacho'l va cho'l; 8. o'rmon-dasht; 9. aralash o'rmonlar.

A) 1, 3, 4, 6, 7, 9    B) 1, 2, 3, 4, 6, 8    C) 2, 4, 5, 7, 8, 9    D) 1, 2, 3, 4, 6, 9

22. Respublikamizdagi qaysi shaharda Xitoy kompaniyasi ishtirokida oyna zavodi qurildi?

A) Jizzax    B) Urganch    C) Chirchiq    D) Olmaliq

23. Paleozoy erasining kaledon tog' hosil bo'lish bosqichida qaysi tog'lar hosil bo'lgan?

A) Yuqori Yana, Markaziy Kordilyera, Qozog'iston tog'lari, Alp-Himolay mintaqasidagi tog'lar

B) Baykalbo'yi, Tyanshan, Ural, Markaziy Yevropa

C) And, Janubiy Appalachi, Chukotka, Kamchatka, Yangi Zelandiya

D) Oltoy, Tyanshan, Qozog'iston past tog'lari, Shimoliy Skandinaviya, Shimoliy Appalachi

24. Islandiyadagi geyzerlarning biridan otilib chiqayotgan suvning harorati  $+93^{\circ}\text{C}$  bo'lsa, bu suv qancha chuqurlikdan otilib chiqayotganligini aniqlang.

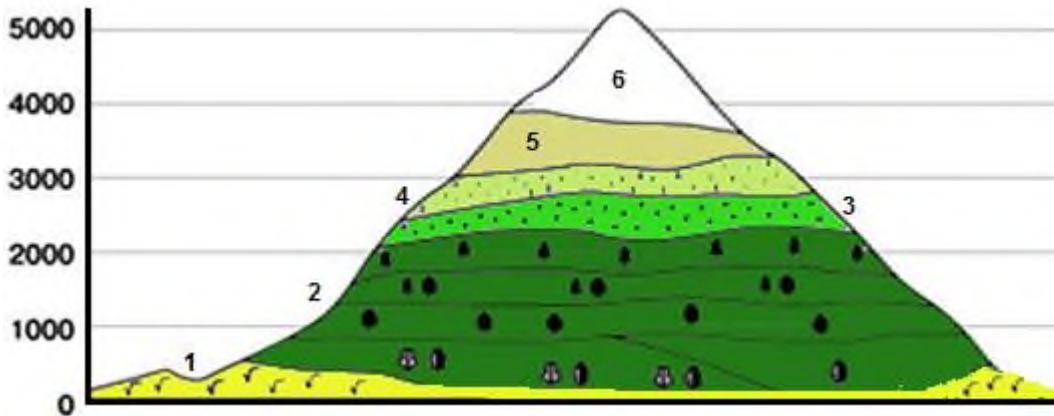
A) 2818,2 m    B) 2182,8 m    C) 2281,8 m    D) 2188,2 m

25. Psilofitlar Yer taraqqiyotining qaysi davrida shakllangan?

A) perm    B) kembriy    C) yura    D) silur

26. Quyidagi balandlik mintaqalari shakllangan tog' qaysi tabiat zonasida joylashgan? 1 – o'rmon-dasht va dasht; 2 – aralash va keng bargli o'rmonlar;

3 – subalp o'tloqlari; 4 – alp o'tloqlari; 5 – tog' tundrasi; 6 – qor va muz zonasi.



A) tundra va o'rmon tundra zonasida  
B) o'rmon-dasht va dasht zonasida  
C) aralash va keng bargli o'rmonlar zonasida  
D) subekvatorial o'rmonlar zonasida

27. Quyidagi qaysi hodisaning sodir bo'lishi Oyning Yerni tortishi bilan bog'liq emas?

A) qirg'oqbo'yi hududlarda Dunyo okeani sathining ko'tarilishi


B) qalqish hodisasi

C) Yerning o'z o'qi atrofida aylanishi sekinlashishi

D) Yer aylanishining burchak tezligi qiymati ekvator dan qutblarga tomon kamayib borishi

28. Rasmda raqamlar bilan ko'rsatilgan obyektlarning qaysi birida havo bosimi eng yuqori bo'ladi?



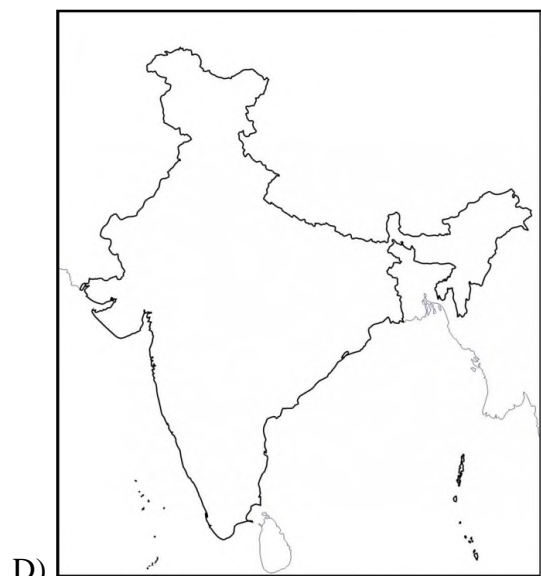
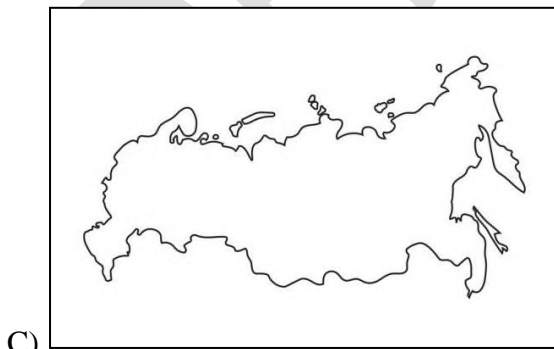
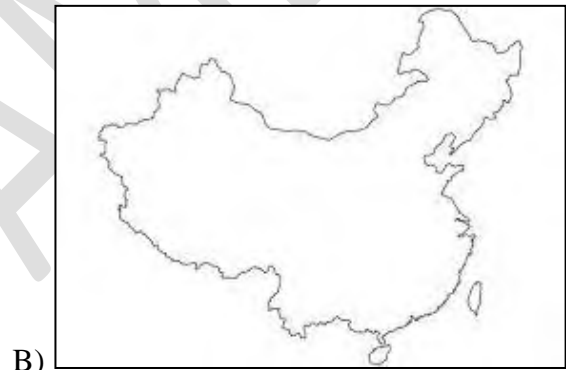
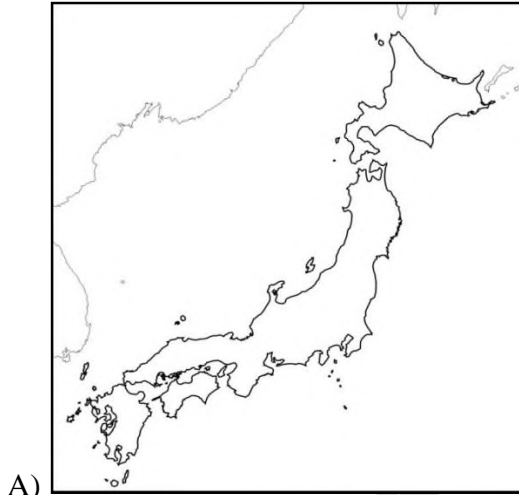


- A) 1      B) 3      C) 4      D) 2

29. Agar dengiz sathida havo bosimi 757 mm Hg ga, harorat esa  $+24^{\circ}\text{C}$  ga teng bo'lsa, 5895 m balandlikdagi havoning harorati va bosimini aniqlang.

- A)  $-9,5^{\circ}\text{C}$ , 158,5 mm Hg      B)  $-8,54^{\circ}\text{C}$ , 127,5 mm Hg  
C)  $-11,37^{\circ}\text{C}$ , 167,5 mm Hg      D)  $-10,5^{\circ}\text{C}$ , 176,5 mm Hg

30. Sixote-Alin tizmasi quyidagi qaysi mamlakat hududida joylashgan?





**1-часть. Каждое задание оценивается 0,9 баллом**

- С помощью какого прибора измеряется скорость ветра?  
А) Флюгер                      В) Анемометр                      С) Барометр                      D) Термометр
- Обозначьте озеро, образованное льдом, по происхождению.  
А) Большой Медвежье                      В) Ньяса                      С) Байкал                      D) Танганьика
- Сколько километров толщины литосфера имеет на дне океана и на суше?  
А) 60-70 и 100-150                      В) 20-50 и 200-300  
С) 35-40 и 70-80                      D) 50-60 и 100-200
- Как называется прирост населения за счет превышения числа умерших над числом родившихся?  
А) механический прирост населения                      С) естественный прирост населения  
В) депопуляция                      D) реурбанизация
- Какой климатический пояс образовался на территории между 30° и 40° южной широты Южноамериканского материка?  
А) тропический                      С) субтропический  
В) субэкваториальный                      D) экваториальный
- Что занимает большие территории в Северной Атлантике, недалеко от полуострова Флорида, Фолклендских островов?  
А) подводный горный хребет                      С) портовые города  
В) материковая отмель                      D) океанические впадины
- На какой реке построена Ходжакентская ГЭС?  
А) Чирчик                      D) Амударья  
В) Сырдарья  
С) Карадарья
- В каких городах построены заводы по производству азотных удобрений и химических волокон из природного газа?  
А) Андижан и Нукус                      С) Янгийул и Маргилан  
В) Бухара и Самарканд                      D) Фергана и Навои
- Какой климат характерен для северного склона Кавказских гор?  
А) субэкваториальный                      С) тропический  
В) субтропический                      D) умеренный
- В каких регионах Африки встречаются магматические и метаморфические породы?  
А) в бассейнах рек и впадинах                      С) в горах и на плато  
В) в горах и низменностях                      D) в впадинах и низменностях

**2-часть. Каждое задание оценивается 1,5 баллом**

- В чем причина появления межгорные впадины в горной части Узбекистана?  
А) вследствие поднятия горных хребтов  
В) извержения вулканов  
С) постоянные ветры  
D) неровность рельефа



12. Какие природные зоны должны пройти туристы, чтобы добраться из пункта А в пункт В по маршруту на этой карте-схеме?



- A) из зоны жестколиственных вечнозеленых лесов в зону полупустынь
- B) от саванн до зоны влажных экваториальных лесов
- C) из зоны влажных экваториальных лесов в зону саванн
- D) от саванн до полупустынь и пустынь

13. Какие воздушные массы преобладают в течение всего года в части бассейна реки Конго и на берегах Гвинейского залива?

- A) экваториальные
- B) континентальные
- C) тропические
- D) умеренные

14. Какие страны Южной Америки не связаны с бассейнами Атлантического и Тихого океана?

- A) Суринам, Перу
- B) Аргентина, Гайана
- C) Боливия, Парагвай
- D) Венесуэла, Колумбия

15. На сколько метров впадина Кермадек глубже, чем впадина Явы?

- A) 2318 м
- B) 2031 м
- C) 1706 м
- D) 1840 м

16. Что из перечисленного не входит в состав “фреоновых” газов, разъедающих озоновый слой?

- A) хлор
- B) фтор
- C) водород
- D) углерод

17. В какой период равнинная часть Мирзачульского физико-географического округа находилась под водой?

- A) каменный
- B) юрский
- C) девонский
- D) силурский

18. Определите среднесуточную температуру воздуха на основании следующих данных: в 1:00 +8°C; в 4:00 +4°C; в 7:00 +7°C; в 10:00 +15°C; в 13:00 +19°C; в 16:00 +21°C; в 19:00 +13°C; в 22:00 +9°C.

- A) +15°C
- B) +19°C
- C) +12°C
- D) +13°C

19. К какой единице ландшафта подходят впадины высохших более мелких озер в дельтах?


- A) местность
- B) урочище
- C) фация
- D) провинция





D) величина угловой скорости вращения Земли уменьшается от экватора к полюсам

28. Какой из объектов на рисунке имеет самое высокое давление воздуха?

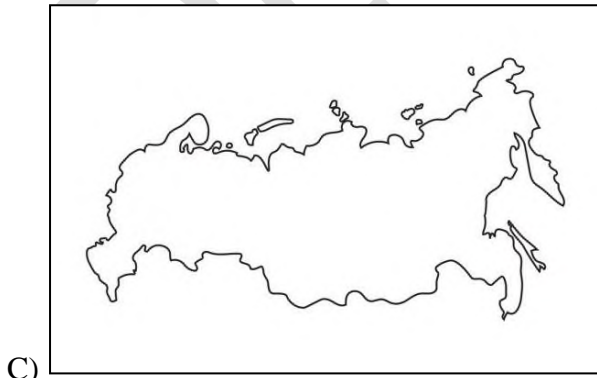
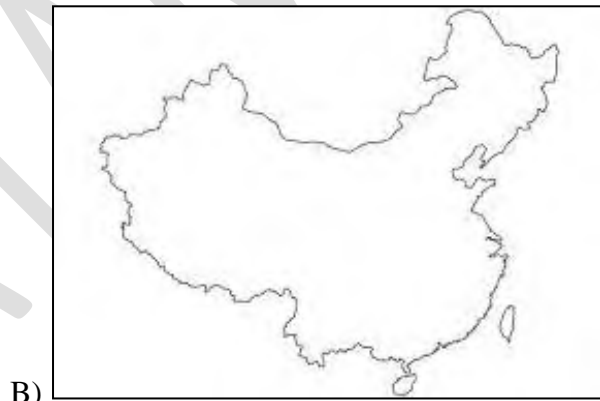
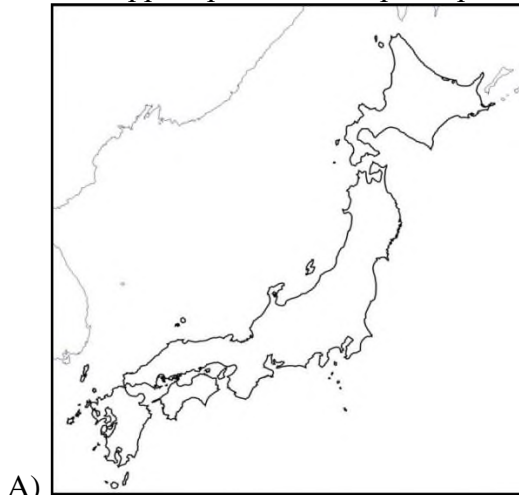


- A) 1      B) 3      C) 4      D) 2

29. Если давление воздуха на уровне моря составляет 757 мм Hg, а температура составляет + 24°C, определите температуру и давление воздуха на высоте 5895 м.

- A) –9,5°C, 158,5 мм Hg      B) –8,54°C, 127,5 мм Hg  
C) –11,37°C, 167,5 мм Hg      D) –10,5°C, 176,5 мм Hg

30. На территории какой страны расположен хребет Сихотэ-Алинь?



**1-qism: Har bir topshiriq 0,9 balldan baholanadi**

1. V. Sochava geotizimlarni ko'lamiga ko'ra qanday darajalarga ajratgan?  
A) regional, lokal va sayyoraviy  
B) sayyoraviy, regional, topologik  
C) sayyoraviy, mintaqaviy, lokal  
D) tipologik, regional va lokal
2. Eratosfen va Ptolemey tuzgan dunyo xaritalarida Hind okeani qanday nom bilan atalgan?  
A) Eritreya dengizi va Hindiston dengizi  
B) Fors ko'li va Qulzum dengizi  
C) G'arbiy okean va Hindiston dengizi  
D) Efiopiya okeani va Sharqiy dengiz
3. Dunyodagi eng uzun sug'orish kanali qaysi mamlakat hududida joylashgan?  
A) Braziliya  
B) Rossiya  
C) Turkmaniston  
D) Xitoy
4. Dunyo okeani yuzasidan bir yilda qancha qalinlikda suv bug'lanadi?  
A) 3 m  
B) 5 m  
C) 2 m  
D) 1 m
5. Quvasoy IEM qaysi iqtisodiy rayonda joylashgan?  
A) Mirzacho'l  
B) Farg'ona  
C) Zarafshon  
D) Janubiy
6. Quyidagi qaysi relyef shakli Tyanshan orogenining tarkibiy qismi emas?  
A) Turkiston tizmasi  
B) Bo'kantov tizmasi  
C) Chotqol tizmasi  
D) Zarafshon tizmasi
7. Osiyo va Afrikada urbanizatsiya ko'rsatkichi qancha?  
A) 55% va 70%  
B) 60% va 27%  
C) 43% va 31%  
D) 50% va 40%
8. Quyidagi qaysi hududdan yirik kumush konlari topilgan?  
A) Qarnobcho'l  
B) Bobotog' tizmasi  
C) Qizilqum cho'li  
D) Qurama tizmasi
9. 22-dekabrda Quyosh qaysi nuqtada zenitda bo'ladi?  
A) shimoliy tropikda  
B) ekvator  
C) janubiy tropikda  
D) qutblarda
10. G'ulja shahri qaysi mamlakat hududida joylashgan?  
A) Xitoy  
B) Eron  
C) Afg'oniston  
D) Qirg'iziston

**2-qism: Har bir topshiriq 1,5 balldan baholanadi**

11. Quyidagi qaysi mamlakatning shimoliy qismi tekislikdan iborat?  
A) Turkiya  
B) Italiya  
C) Bolgariya  
D) Germaniya
12. Adiroldi qirlari landshaftning qaysi taksonomik birligiga mos keladi?  
A) urochishe  
B) joy  
C) fatsiya  
D) rayon
13. Quyidagi qaysi obyekt Qozog'iston tabiiy geografik o'lkasi tarkibiga kirmaydi?  
A) Shimoliy Tyanshan  
B) Xorazm tekisligi  
C) Sharqiy Qozog'iston tog'lari  
D) To'rg'ay platosi
14. Qaysi davlat Karib havzasi mamlakatlari tarkibiga kirmaydi?  
A) Gvatemala  
B) Gonduras  
C) Meksika  
D) Nikaragua
15. Chirchiq daryosi tekislikka oqib chiqqach, unga o'ng tomondan qaysi daryolar quyiladi?  
A) Qoraqiyasoy, Qizilsuvsoy  
B) Qoronqulsoy, Glavasoy





- C) Parkentsoy, Oqtoshsoy                      D) Oqsoqotasoy, Qizilsuvsoy

16. Yerlarni o'zlashtirib, haydash va sug'orish natijasida tog' jinslari yemirilishining jadallashishi nima deb ataladi?

- A) suffoziya                      B) irrigatsiya eroziyasi                      C) deflyatsiya                      D) yuzalama eroziya

17. Namangan vioyatining qaysi tumanlaridagi yaylovlarda qo'y va echkilar ko'p boqiladi?

- A) Uchqo'rg'on va Kosonsoy                      C) Namangan va Kosonsoy  
B) To'raqo'rg'on va Uychi                      D) Pop va Chust

18. Selak va Tomboro vulqonlari qaysi mamlakat hududida joylashgan?

- A) Singapur                      B) Yaponiya                      C) Indoneziya                      D) Malayziya

19. Sherobod-Sariqamish past tog'ining janubi-g'arbida qaysi tog' joylashgan?

- A) Bobotog'                      B) Klif-Sherobod                      C) Chaqchar                      D) Pistalitog'

20. Rasmdagi a va b harflar o'rniga 4 sekund va 6 sekund so'zlari mos ravishda qo'yilsa, dengizning chuqurligini aniqlang.



- A) 6000 m va 4500 m                      B) 6500 m va 8500 m                      C) 4500 m va 3000 m                      D) 6000 m va 9000 m

**3-qism: Har bir topshiriq 2,6 balldan baholanadi**

21. Ustyurtda sho'rxoklarning keng tarqalishiga qanday omillar sabab bo'lgan?

- A) relyefning botiqligi va tez eruvchan tog' jinslarining keng tarqalganligi  
B) platoda joylashganligi va relyefning to'liqsimonligi  
C) relyefning tekisligi va grunt suvlari sathining yer betiga yaqinligi  
D) yer yuzasining tekisligi va Orol dengiziga yaqin joylashganligi

22. O'zbekistonning cho'l va chalacho'l mintaqalaridagi o'rtacha murakkab geotizimlarga nimalarni misol qilish mumkin?

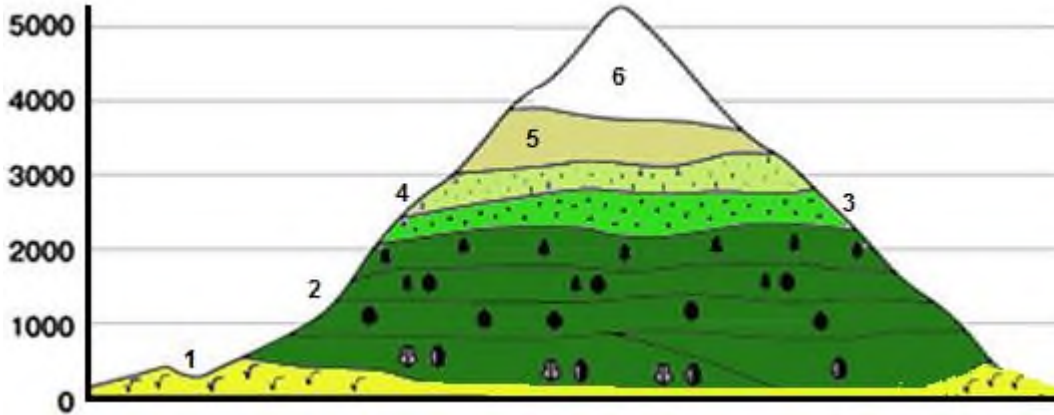
- A) Yuqori allyuvial terrasalarni  
B) Deltalarning o'rta qismlarini  
C) Konussimon yoyilmalar va daryo deltalarining bosh qismini  
D) Qirlar, adirlar va platolarni

23. Chuqurligi 4500 metr bo'lgan suv havzasining tubida harorat +2°C ekanligi ma'lum bo'lsa, xuddi shu paytda suv yuzasida harorat necha t°C ga teng bo'ladi?

- A) +11°C                      B) -11°C                      C) +9°C                      D) -9°C



24. Quyidagi balandlik mintaqalari shakllangan tog' qaysi tabiat zonasida joylashgan? 1 – o'rmon-dasht va dasht; 2 – aralash va keng bargli o'rmonlar; 3 – subalp o'tloqlari; 4 – alp o'tloqlari; 5 – tog' tundrasi; 6 – qor va muz zonasida.



- A) tundra va o'rmon tundra zonasida  
B) o'rmon-dasht va dasht zonasida  
C) aralash va keng bargli o'rmonlar zonasida  
D) subekvatorial o'rmonlar zonasida

25. 25,2° janubiy kenglikda joylashgan Asunson shahridan Janubiy qutbgacha bo'lgan masofani gradus va kilometr hisobida aniqlang.

- A) 68,4° va 9719,28 km  
B) 6,48° va 7919,82 km  
C) 64,8° va 7919,82 km  
D) 64,8° va 7199,28 km


26. Hisor qo'riqxonasida qanday hayvonlar muhofaza qilinadi?

- A) qoplon, qor barsi, ayiq, jayron  
B) turkiston silovsini, qor qoplani, tog' echkisi, kiyik  
C) qor barsi, tog' bug'usi, jayron, qo'ng'ir ayiq  
D) hisor yo'lbarisi, tog' jayroni, xongul, bo'ri

27. Kamchatkadagi Grot (G'or) geyzeridan o'tilib chiqayotgan suvning harorati +92°C ga teng bo'lsa, u qancha chuqurlikdan o'tilib chiqayotganligini aniqlang.

- A) 2978 m  
B) 2,788 km  
C) 2978,9 km  
D) 27,88 km

28. Rasmda raqamlar bilan ko'rsatilgan obyektlarning qaysi birida havo bosimi eng past bo'ladi?



- A) 1  
B) 3  
C) 4  
D) 2

29. Alp tog'larini muzliklaridan to'yinuvchi daryolarni aniqlang.

- A) Reyn, Rona, Adije, Drava
- B) Volga, Lena, Don, Ob
- C) Rona, Yenisey, Oder, Olt
- D) Yenisey, Lena, Ob, Volga

30. Xaritada A va B nuqtalar bilan qaysi orollar o'rni ko'rsatilgan?



- A) A-Grenlandiya, B-Gaiti
- B) A-Viktoriya, B-Yamayka
- C) A-Baffin Yeri, B-Kuba
- D) A-Banks, B-Kuba

**1-часть. Каждое задание оценивается 0,9 баллом**

1. Насколько классифицировал геосистемы по размеру В. Сочава?  
А) региональные, локальные и планетарные  
В) планетарный, региональный, топологический  
С) планетарная, региональная, локальная  
D) типологические, региональные и локальные
2. Как называется Индийский океан на картах мира, составленных Эратосфеном и Птолемеем?  
А) Эритрейское море и Индийский океан  
В) Персидский залив и Кульзумское море  
С) Западный океан и Индийский океан  
D) Эфиопский океан и Восточное море
3. В какой стране самый длинный оросительный канал в мире?  
А) Бразилия                      В) Россия                      С) Туркменистан                      D) Китай
4. Сколько воды испаряется с поверхности Мирового океана каждый год?  
А) 3 м                      В) 5 м                      С) 2 м                      D) 1 м
5. В каком экономическом районе расположена Кувасойская ТЭЦ?  
А) Мирзачуль                      В) Фергана                      С) Зарафшан                      D) Южный
6. Какая из следующих форм рельефа не входит в состав Тянь-Шаньского орогена?  
А) Туркестанский хребет                      В) Хребет Букантау  
С) Чаткальский хребет                      D) Зарафшанский хребет
7. Какой уровень урбанизации в Азии и Африке?  
А) 55% и 70%                      В) 60% и 27%                      С) 43% и 31%                      D) 50% и 40%
8. В каких из следующих областей обнаружены крупные месторождения серебра?  
А) Карнабчуль                      В) Бабатагский хребет                      С) Пустыня Кызылкум                      D) Кураминский хребет
9. Где Солнце будет в зените 22 декабря?  
А) в северных тропиках                      В) на экваторе                      С) в южных тропиках                      D) на полюсах
10. В какой стране находится город Кульджа?  
А) Китай                      В) Иран                      С) Афганистан                      D) Кыргызстан

**2-часть. Каждое задание оценивается 1,5 баллом**

11. Северная часть какой страны равнинная?  
А) Турция                      В) Италия                      С) Болгария                      D) Германия
12. Какой таксономической единице ландшафта соответствуют различные части склонов гор и возвышенностей?  
А) урочище                      В) местность                      С) фация                      D) район
13. Какой из следующих объектов не входит в состав Казахстанской малой физико-географической страны?  
А) Северный Тянь-Шань                      В) Хорезмская равнина  
С) Горы Восточного Казахстана  
D) Тургайское плато





14. Какая страна не является частью Карибского бассейна?

- A) Гватемала      В) Гондурас      С) Мексика      D) Никарагуа

15. Когда река Чирчик впадает в равнину, какие реки впадают в нее справа?

- A) Каракиясай, Кызылсувсай      С) Паркентсай, Акташсай  
B) Коронкулсай, Главасай      D) Аксакатасай, Кызылсувсай

16. Как называется ускорение эрозии горных пород в результате мелиорации, обработки земли и орошения?

- A) суффозия      В) ирригационная эрозия      С) дефляция      D) плоскостная эрозия

17. В каких районах Наманганской области больше выпасают овец и коз?

- A) Учкурган и Касансай      В) Туракурган и Уйчи  
C) Наманган и Касансай      D) Пап и Чуст

18. В какой стране расположены вулканы Селак и Томборо?

- A) Сингапур      В) Япония      С) Индонезия      D) Малайзия

19. Какая гора расположена к юго-западу от Шерабад-Сарикамышских гор?

- A) Бабатаг      В) Келиф-Шерабадские горы      С) Чакчар      D) Писталитау

20. Определите глубину моря, если буквы а и в на картинке заменить словами 4 секунды и 6 секунд соответственно.



- A) 6000 м и 4500 м      В) 6500 м и 8500 м      С) 4500 м и 3000 м      D) 6000 м и 9000 м

**3-часть. Каждое задание оценивается 2,6 баллом**

21. Какие факторы способствовали распространению солончаков на Устюрте?

- A) котловина рельефа и преобладание быстроплавких пород  
B) расположение на плато и холмистость местности  
C) плоскость рельефа и близость уровня грунтовых вод к земле  
D) ровность земной поверхности и близость к Аральскому морю





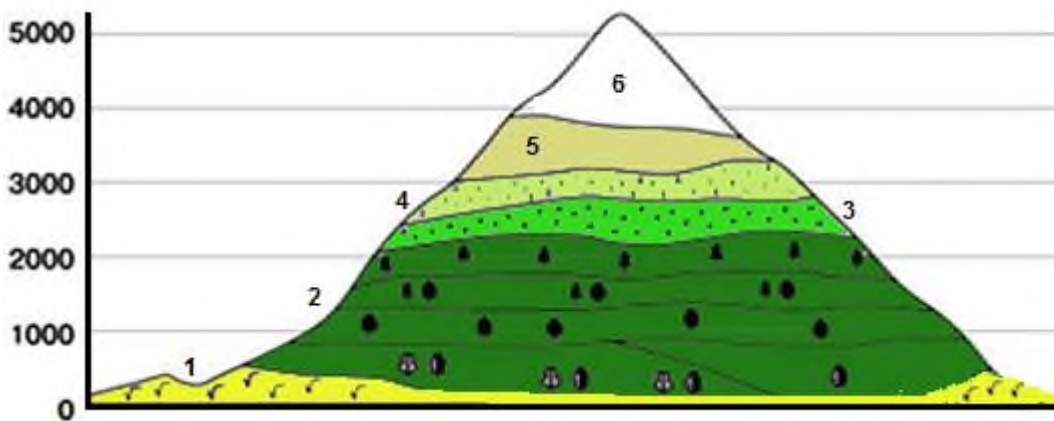
22. Каковы примеры средне сложных геосистем в пустынных и полупустынных районах Узбекистана?

- A) Верхние речные террасы  
B) Средние части дельт  
C) Верхние части конусов выноса и рек  
D) Волнистые равнины, возвышенности и плато

23. Если известно, что температура на дне водоема на глубине 4500 метров составляет  $+2^{\circ}\text{C}$ , какова в то же время температура на поверхности воды?

- A)  $+11^{\circ}\text{C}$     B)  $-11^{\circ}\text{C}$     C)  $+9^{\circ}\text{C}$     D)  $-9^{\circ}\text{C}$

В какой природной зоне находится гора, где сформировались следующие высотные поясы? 1- лесостепи и степи; 2-смешанные и широколиственные леса; 3 – субальпийские луга; 4 – альпийские луга; 5 – горная тундра; 6-зона снега и льда.



- A) в зоне тундры и лесотундры  
B) в лесостепной и степной зоне  
C) в зоне смешанных и широколиственных лесов  
D) в зоне субэкваториальных лесов

25. Определите расстояние от Асунсьона ( $25,2^{\circ}$  южной широты) до Южного полюса в градусах и километрах.

- A)  $68,4^{\circ}$  и 9719,28 км  
B)  $6,48^{\circ}$  и 7919,82 км  
C)  $64,8^{\circ}$  и 7919,82 км  
D)  $64,8^{\circ}$  и 7199,28 км

26. Какие животные охраняются в Гиссарском заповеднике?

- A) леопард, снежный барс, медведь, газель  
B) Туркестанский силос, снежный барс, горный козел, олень  
C) снежный барс, горный олень, газель, бурый медведь  
D) Гиссарский тигр, газель, хангул, волк


27. Если температура воды, исходящей из гейзера Грот на Камчатке, составляет  $+92^{\circ}\text{C}$ , определите, насколько глубоко она извергается.

- A) 2978 м  
B) 2,788 км  
C) 2978,9 км  
D) 27,88 км





28. Какой из объектов на рисунке имеет самое низкое давление воздуха?



- A) 1      B) 3      C) 4      D) 2

29. Определите реки, которые питаются Альпийскими ледниками.

- A) Рейн, Рона, Адиге, Драва      C) Рона, Енисей, Одер, Олт  
B) Волга, Лена, Дон, Обь      D) Енисей, Лена, Обь, Волга

30. Какие острова показаны на карте точками А и В?



- A) А-Гренландия, Б-Гаити  
B) А-Виктория, Б-Ямайка  
C) А-Баффинова Земля, В-Куба  
D) А- Банкс, В-Куба

